

# **Astrologický test pre začiatočníkov**

## **Planéty (týka sa len 7 tradičných planét)**

**Ktorá planéta je najrýchlejšia?**

Mesiac

**Ktorá planéta je najpomalšia?**

Saturn

**Je Jupiter dobrodej?**

áno

**Je Venuša škodca?**

nie

**Ktorá planéta symbolizuje vitalitu, zdroj energie?**

Slnko

**Ktorá planéta súvisí s komunikáciou?**

Merkúr

**Ktorá planéta súvisí s láskou?**

Venuša

**Ktorá planéta súvisí s materstvom?**

Mesiac

**Ktorá planéta je suchá a chladná?**

Saturn

**Ktorá planéta otvára možnosti?**

Jupiter

**Ktorá planéta nemôže byť retrográdna?**

Slnko, Mesiac

**Napiš aspoň 3 významy Mesiaca v horoskope.**

matka, rodina, domov

**Ktorá planéta symbolizuje starobu?**

Saturn

**Ktorá planéta je planéta vojny?**

Mars

**Je Saturn denná planéta?**

áno

**Je Venuša denná planéta?**

nie

**Vymenuj denné a nočné planéty.**

denné: Slnko, Jupiter, Saturn; nočné: Mesiac, Venuša, Mars

**Vymenuj poradie planét podľa rýchlosti (chaldejský rad planét).**

Mesiac, Merkúr, Venuša, Slnko, Mars, Jupiter, Saturn

**Ktoré planéty nazývame škodcovia?**

Mars, Saturn

**Ktoré planéty nazývame dobrodejovia?**

Venuša, Jupiter

**Je Merkúr dobrodej?**

Merkúr je neutrálny

**Ktorá planéta symbolizuje srdce?**

Slnko

**Ktorá planéta symbolizuje pečeň?**

Jupiter

**Vymenuj aspoň jeden orgán ku každej planéte.**

Mesiac – žalúdok, Merkúr – nervy, Venuša – obličky, Slnko – srdce, Mars – pohlavné orgány,  
Jupiter – pečeň, Saturn - kosti

**Ktorá planéta sa prejavuje ako strach?**

Saturn

**Ktorá planéta sa prejavuje ako nestálosť?**

Mesiac

**Ktoré dve osoby môže symbolizovať Slnko?**

otec, manžel, kráľ

**Ktoré dve osoby môže symbolizovať Mesiac?**

matka, manželka

**Aký je kov Saturna?**

olovo

**Aká je aspoň jedna bylina, ktorá patrí k Marsu?**

cesnak

**Je ortuť kov Venuše?**

nie

**Vymenuj aspoň dve vnútorné planéty.**

Merkúr, Venuša

**Vymenuj aspoň dve vonkajšie planéty.**

Jupiter, Saturn

**Ktorá planéta môže symbolizovať posla?**

Merkúr

**Je červená farba Mesiaca?**

nie

**Ktorá planéta patrí k ohnivému živlu?**

Mars

**Ktorá planéta patrí k zemskému živlu?**

Saturn

**Ktorá planéta patrí k vodnému živlu?**

Mesiace

**Ktorá planéta tradične patrí k vzdušnému živlu a k sangvinickému temperamentu?**

Jupiter

**Znamenia a planéty (týka sa len 7 tradičných planét)**

**Ktorá planéta vládne v Blížencoch?**

Merkúr

**Ktorá planéta vládne v Strelcovi?**

Jupiter

**Ktorá planéta je povýšená v Baranovi?**

Slnko

**Ktorá planéta je povýšená v Kozorožcovi?**

Mars

**Kde je Mesiace povýšený?**

v Býkovi

**Ktorým znameniam vládne Venuša?**

Býk, Váhy

**Ktorým znameniam vládne Mars?**

Baran, Škorpión

**Vymenuj, v ktorých znameniach sú ktoré planéty povýšené.**

Baran - Slnko, Býk - Mesiac, Rak - Jupiter, Panna - Merkúr, Váhy - Saturn, Kozorožec - Mars, Ryby - Venuša

**Vymenuj, v ktorých znameniach ktorá planéta vládne.**

Baran - Mars, Býk - Venuša, Blíženci - Merkúr, Rak - Mesiac, Lev - Slnko, Panna - Merkúr, Váhy - Venuša, Škorpión - Mars, Strelec - Jupiter, Kozorožec - Saturn, Vodnár - Saturn, Ryby - Jupiter

## **Znamená**

**Ktoré znamená sú ohnivé?**

Baran, Lev, Strelec

**Ktoré znamená sú zemské?**

Býk, Panna, Kozorožec

**Sú Blíženci zemské znamená?**

nie

**Je Vodnár vodné znamená?**

nie

**Sú Ryby vodné znamená?**

áno

**Ktoré znamená sú základné – kardinálne?**

Baran, Rak, Váhy, Kozorožec

**Ktoré znamená sú pohyblivé - dvojtelesové?**

Blíženci, Panna, Srtelec, Ryby

**Vymenuj vodné znamená.**

Rak, Škorpión, Ryby

**Vymenuj vzdušné znamená.**

Blíženci, Váhy, Vodnár

**Je Baran pevné znamená?**

nie

**Je Vodnár pevné znamenie?**

áno

**Ktoré znamenia sú pevné?**

Býk, Lev, Škorpión, Vodnár

**Ktoré znamenie je prvé?**

Baran

**Ktoré znamenie symbolizuje chodidlá?**

Ryby

**Ktoré znamenie symbolizuje obličky?**

Váhy

**Napíš aspoň jednu časť tela ku každému znameniu.**

Baran - hlava, Býk - krk, Blíženci - ruky, Rak - prsia, Lev - srdce, Panna - črevá, Váhy - obličky, Škorpión - pohlavné orgány, Strelec - stehná, Kozorožec - kĺby, Vodnár - lýtka, Ryby - chodidlá

**V ktorom znamení je Slnko, keď začína jar?**

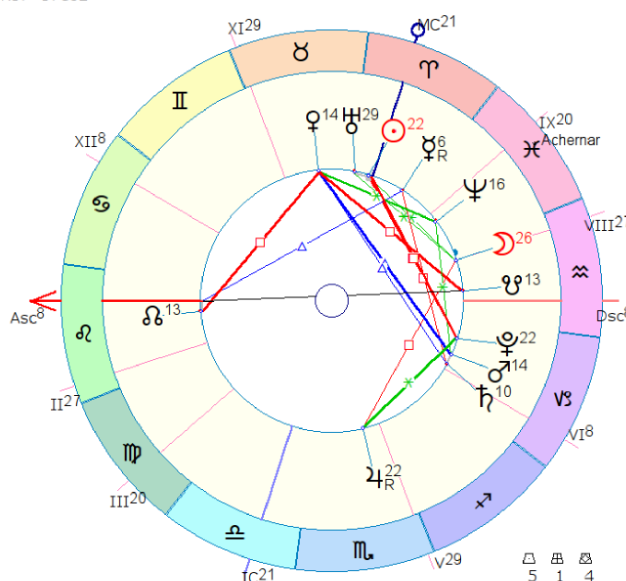
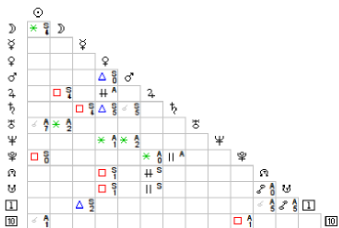
Baran

**V ktorom znamení je Slnko, keď začína zima?**

Kozorožec

## Domy

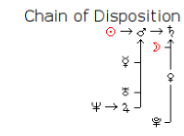
11 April 2018 Wed 12:47:29 (GMT+2) 48n17 17e02  
Stupava, Slovakia



☉	21 Y 30
☽	25 X 59
♃	5 Y 28
♄	13 X 49
♅	13 X 41
♆	21 M 34
♇	9 X 7
♈	28 Y 5
♉	15 X 18
♊	21 X 15
♋	12 X 33
♌	12 X 33
♍	7 X 52
♎	20 Y 3

Achernar

♁	♂	♆	♄	♃
♂	♁	♆	♄	♃
♃	♁	♆	♄	♂
♄	♁	♆	♃	♂
♆	♁	♂	♃	♄
♃	♁	♂	♄	♆
♄	♁	♃	♆	♂
♆	♁	♃	♄	♂
♃	♁	♄	♆	♂
♄	♁	♆	♃	♂
♆	♁	♃	♄	♂
♃	♁	♄	♆	♂



♁	♂	♆	♄	♃	♂
5	1	4	6	4	3
6	4	3	7		
6	3	1	3	4	1
			2		

**Tieto otázky sa vzťahujú na horoskop na obrázku:**

**Vymenuj ktorá planéta je v ktorom dome v danom horoskope?**

Jupiter - IV., Saturn, Mars, Pluto - VI., Mesiac, Neptún - VIII., Merkúr - IX., Slnko, Urán, Venuša - X.

**Vymenuj, ktorá planéta vládne ktorému domu (tradičné vládcovstvo).**

I. - Slnko, II. - Slnko, III. - Merkúr, IV. - Venuša, V. - Mars, VI. - Saturn, VII. - Saturn, VIII. - Saturn, IX. - Jupiter, X. - Mars, XI. - Venuša, XII. - Mesiac

**Ktoré planéty v horoskope sú povýšené?**

Slnko, Mars

**Ktoré planéty v horoskope sú doma?**

Saturn, Venuša

**Ktoré planéty sú v páde?**

žiadna

**Ktoré planéty sú v exile?**

žiadna

**Ostatné otázky týkajúce sa domov:**

**Ktorý dom symbolizuje deti?**

V.

**Ktorý dom symbolizuje partnerstvo?**

VII.

**Ktorý dom symbolizuje daného človeka?**

I.

**Vymenuj aspoň dve veci, ktoré súvisia s X. domom.**

povolanie, matka

**Ktoré 2 domy sú najsilnejšie?**

I., X.

**Ktoré 3 domy sú negatívne?**

VI., VIII., XII.

**Ktorý dom symbolizuje zdravie?**

I.

**Ktorý dom symbolizuje choroby?**

VI.

**Aký má hlavný význam II. dom?**

financie

**Kde v horoskope nájdeme súrodencov?**

III. dom

**Vymenuj jednotlivé domy a ku každému aspoň jeden význam.**

I. - osobnosť, II. - financie, III. - krátke cesty, IV. - rodina, V. - deti, VI. - choroby, VII. - manželstvo, VIII. - smrť, IX. - viera, X. - povolanie, XI. - priatelia, XII. - väzenie

**Ktorý dom začína ascendentom?**

I.

**Ktorý dom symbolizuje cesty?**

III., IX.

**Ktorý dom symbolizuje priateľov?**

XI.

**Ktorý dom symbolizuje skrytých nepriateľov?**

XII.

**Čo znamená, keď je vládca I. domu v X. dome?**

zameranie človeka na povolanie

**Čo znamená, ak je vládca II. domu v IX. dome?**

možný zárobok v cudzine

**Je jedenásty dom pozitívny?**

áno

**Aké povolanie môže mať človek, ak má Merkúr v X. dome?**

spisovateľ, obchodník, učiteľ, prekladateľ, diplomat

**Ktorý dom v konkrétnom horoskope je najdôležitejší?**

1. najviac obsadený, 2. ten v ktorom je Slnko, 3. ten v ktorom je vládca ASC

**Aspekty (týka sa len hlavných aspektov)**

**Ktoré aspekty sú harmonické a koľko stupňov zvierajú?**

sextil - 60°, trigon - 120°

**Ktoré aspekty sú disharmonické a koľko stupňov zvierajú?**

kvadratura - 90°, opozícia - 120°

**Je konjunkcia harmonický aspekt?**

to závisí od toho, aké planéty sa spájajú, vo všeobecnosti je skôr neutrálna

**Je kvadratura Slnka s Saturna priaznivá?**

nie

**Je trigon Jupitera a Venuša priaznivý?**

áno

**Čo je to orbis?**

tolerancia odchýlky od presného aspektu

**Ktorý aspekt je najsilnejší?**

konjunkcia

**Ktorý aspekt je najslabší?**

sextil

**Ktorý aspekt symbolizuje protiklad?**

opozícia

**Ktorý aspekt symbolizuje konflikt?**

kvadratura

**Ktorý aspekt symbolizuje súlad?**

sextil, trigon

**Ktorý aspekt môže byť dvojaký?**

konjunkcia

**Iné**

**Ktorý živel je teplý a suchý?**

ohň

**Ktorý živel je studený a vlhký?**

voda

**Čo symbolizuje kvalita tepla?**

aktivitu

**Čo symbolizuje kvalita sucha?**

rezistenciu

**Z akých dvoch kvalít pozostáva živel vzduchu?**



teplo, vlhko

**Z akých dvoch kvalít pozostáva živel zeme?**

sucho, chlad

**Čo symbolizuje kvalita chladu?**

pasivita

**Čo symbolizuje kvalita vlhka?**

prispôsobivosť

**Ktoré 4 šťavy v tele sú tradične priradené k jednotlivým živlom?**

krv - vzduch, flegma (hlen) - voda, žlč - oheň, čierna žlč - zem